



Г.П. Шалаева



Ребенок в возрасте



5



лет



Тесты на развитие

Г.П. Шалаева

*Ребенок в возрасте
5 лет*

Тесты на развитие

АСТ · СЛОВО
Москва

УДК 372.3/4
ББК 22.12я 70
Ш18

Галина Петровна Шалаева

Печатается с разрешения издательства
ООО «Филологическое общество "СЛОВО"»

Шалаева, Г.П.

Ш18 Ребенок в возрасте 5-и лет. Тесты на развитие / Г. П. Шалаева. — М.: АСТ: СЛОВО, 2010. — 64 с.

ISBN 978-5-17-058296-9 (АСТ)

ISBN 978-5-8123-0716-5 (СЛОВО)

Это прекрасно иллюстрированная книга, с развивающими методами обучения логике, познакомит детей с законами правильного мышления. Упражнения, данные в книге, направлены на эффективную тренировку мышления, а логические игры с элементами развлечения способствуют формированию мыслительных операций, пробуждающих у ребёнка интерес к математике и грамматике родного языка. Книга предназначена для родителей дошкольников, воспитателей детских садов, учителей начальной школы.

УДК 372.3/4
ББК 22.12я 70

ISBN 978-5-17-058296-9 (АСТ)
ISBN 978-5-8123-0716-5 (СЛОВО)

© ООО «Филологическое общество "СЛОВО"», 2010

© ООО «Филологическое общество "СЛОВО"», оформление, 2010

Наши малыши растут и развиваются не одинаково быстро, поэтому уровень развития каждого из них нельзя определить на основании общих параметров, таких, как возраст, рост и другие, хотя они, несомненно, играют роль в достижении определенного уровня развития. Тем не менее теперь больше внимания уделяется индивидуальному развитию ребенка, а не его закономерностям. Каждый малыш в чем-то опережает других, а в чем-то отстает от них.

Разнообразные тесты для определения уровня детских способностей появились еще в начале XX века, полученные результаты свидетельствовали о том, что все дети неодинаковы. Однако подобные тесты не позволяли оценить воображение, устремленность, эмоциональность и другие качества, составляющие индивидуальность личности.

Тесты, которые предлагаются в этой книге, разработаны как раз с учетом этих качеств и показывают общий уровень, на котором ребенок выполняет задания. Таким образом, помимо уровня развития (достаточный, высокий и одаренный) родители могут также по результатам тестирования вычислить так называемый коэффициент интеллекта своего ребенка [IQ]. Этот коэффициент можно вычислить путем деления так называемого умственного возраста, показанного ребенком, на его действительный возраст. Например, ребенок с умственным возрастом 7 и действительным 5 имеет коэффициент интеллекта ($7 : 5 = 1,40$ или 140, как принято считать в международном измерении).

Тест первой степени сложности
(для ребенка с достаточным уровнем развития)

Задание 1

Каким одним словом можно назвать эту группу слов?




яблоко



ананас



виноград



апельсин



груша

Правильный ответ — 1 балл

Неправильный ответ — 0 баллов

Задание 2

Какое определение подходит к слову «арбуз»?

круглый

кислый

черный



растет на дереве

Правильный ответ — 1 балл

Неправильный ответ — 0 баллов

Задание 3

Назови, каких диких и домашних животных ты знаешь.



Каждый правильный ответ — 1 балл
Неправильный ответ — 0 баллов

Задание 4

Закончи предложения.



Жил-был мальчик Серёжа. У него была

Рекс. У Рекса было два



. Серёжа ездил с Рексом

кататься в парк на новом



. У велосипеда было три



. Рекс очень любил бегать за велоси-

педом и очень часто обгонял его, поскольку у Рекса было четыре



. На день рождения Рекса Серёжа ис-

пёк



. Рексу исполнилось 4 года, и поэтому Серёжа за-

жёл на торте четыре




.

Каждый правильный ответ — 1 балл
Неправильный ответ — 0 баллов

Задание 5

Сосчитай, сколько гусей прячется за забором.



Правильный ответ — 5 баллов

Неправильный ответ — 0 баллов

Задание 6

«Чёрный» — назови слово с противоположным значением.

Правильный ответ — 3 балла

Неправильный ответ — 0 баллов

Задание 7

Подбери нужное определение.

Зима

*холодная
жаркая
туманная*



Лето

*снежное
жаркое
болотистое*



Каждый правильный ответ — 3 балла
Неправильный ответ — 0 баллов

Задание 8

Девочка Катя собирается пойти в лес за грибами. **Что** она должна взять с собой?



Правильный ответ — 5 баллов

Неправильный ответ — -2 балла

Задание 9

Скажи, сколько букв в твоём имени. (Ребенок считает буквы в коротком имени)

Правильный ответ — 5 баллов
Неправильный ответ — 0 баллов

Задание 10

Расставь цифры по порядку.



Правильный ответ — 5 баллов
Неправильный ответ — -2 балла

Задание 11

Образуй множественное число.

стол — ...



дом — ...

жук — ...

Каждый правильный ответ — 3 балла
Неправильный ответ — 0 баллов

Задание 12

Скажи, какой по вкусу:



Каждый правильный ответ — 3 балла
Неправильный ответ — -2 балла

Задание 13

Назови, кто подает так голос:



гуль-гуль-гуль



бе-бе-бе





кар-кар-кар

Каждый правильный ответ — 2 балла
Неправильный ответ — -1 балл

Задание 14

Скажи: кто запасает на зиму грибы и шишки?



Правильный ответ — 5 баллов

Неправильный ответ — 0 баллов

Задание 15

Скажи, сколько зайцев нарисовано на картинке, тигрят, бабочек, лягушек.



Каждый правильный ответ — 5 баллов
Неправильный ответ — -1 балл

Задание 16

Назови профессию:



Человек лечит людей. Это ...



Человек учит детей в школе. Это ...

Правильный ответ — 5 баллов

Неправильный ответ — 0 баллов

Задание 17

Какая половинка у яблока раскрашена: **правая** или **левая**?



Правильный ответ — 5 баллов

Неправильный ответ — 0 баллов

Задание 18

Какой свет светофора дает нам команды: «Стой», «Иди», «Внимание»?



Каждый правильный ответ — 3 балла

Неправильный ответ — 0 баллов

Задание 19

Посмотри на картинки и выбери недостающее слово.

Катя любит есть ...



Петя носит на голове ...




Лиза живет в ...



Каждый правильный ответ — 3 балла
Неправильный ответ — -2 балла

Задание 20

Скажи, какая **часть тела** кому принадлежит. Соедини линиями части тела и животное. Назови животных.



Каждый правильный ответ — 3 балла
Неправильный ответ — 0 баллов

Задание 21

Скажи, что посоветовал врач есть больному жирафу, чтобы скорее поправиться.



Правильный ответ — 1 балл
Неправильный ответ — 0 баллов

Задание 22

Назови, что на рисунке не относится к предметам одежды.



Правильный ответ — 1 балл

Неправильный ответ — -3 балла

Задание 23

Покажи на картинке предметы, которые начинаются с буквы «К».



Каждый правильный ответ — 3 балла

Неправильный ответ — 0 баллов

Задание 24

Найди пять предметов, начинающихся на букву «Л».



Правильный ответ — 2 балла

Неправильный ответ — 0 баллов

Задание 25

Реши логическую задачу.

Когда собака стоит на двух лапах, она весит пять кг, сколько она будет весить, если встанет на все четыре лапы?



5 кг



? кг

Правильный ответ — 5 баллов
Неправильный ответ — 0 баллов

Задание 26

Покажи на картинке предметы, которые начинаются с буквы «Г».



Правильный ответ — 2 балла

Неправильный ответ — 0 баллов

Итоги теста:

- Если Ваш ребенок набрал 100 и больше баллов, то у него **достаточный** для его возраста уровень развития и вы можете попробовать провести с ним тест второго уровня сложности.



- Если Ваш ребенок набрал 80 и больше баллов, то Вам необходимо **немного позаниматься** с ним.

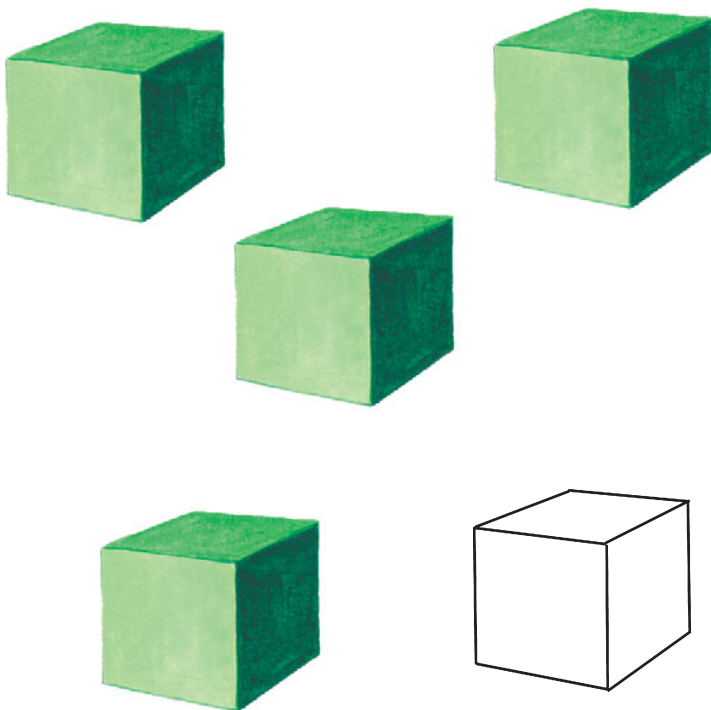
- Если Ваш ребенок набрал меньше 50 баллов, то Вам необходимо **обратить серьезное внимание** на его развитие.



Тест второго уровня сложности (для ребенка с высоким уровнем развития)

Задание 1

На столе стоит пять кубиков. Один кубик убрали. Сколько кубиков **осталось**?



Чтобы ребенок правильно решил это задание, лучше изобразить его наглядно: расставив кубики (желательно одного цвета) на столе.

Правильный ответ — 5 баллов
Неправильный ответ — 0 баллов

Задание 2


Как называется детеныш:




медведя



зайца



лягушки



льва



мыши

Каждый правильный ответ — 2 балла
Неправильный ответ — 0 баллов

Задание 3

Что Дед Мороз подарит детям?



Каждый правильный ответ — 1 балл
Неправильный ответ — 0 баллов

Задание 4


Скажи: как растет морковь?



на дереве



на кусте




на грядке

Правильный ответ — 5 баллов
Неправильный ответ — -1 балл

Задание 5

Покажи, где у моркови корень.



Правильный ответ — 3 балла
Неправильный ответ — 0 баллов

Задание 6

Подбери правильное слово.

Июль — это | *зимний месяц*
весенний месяц
летний месяц
осенний месяц

Новый год празднуют | *зимой*
летом
осенью
весной

Детям можно купаться в реке в | *январе*
ноябре
августе
декабре

Каждый правильный ответ — 3 балла
Неправильный ответ — 0 баллов

Задание 7

Образуй множественное число.



стул



рот



дом



НОСОК



Каждый правильный ответ — 3 балла
Неправильный ответ — 0 баллов

Задание 8




Назови, чего и сколько нарисовано на картинке:



Каждый правильный ответ — 3 балла
Неправильный ответ — 0 баллов

Задание 9

Здесь изображены различные животные. Скажи, какие животные дикие, а какие домашние.



Правильный ответ — 2 балла

Неправильный ответ — 0 баллов

Задание 10

Сосчитай книги у мальчика и девочки. У кого много, а у кого мало книг?



Правильный ответ — 2 балла

Неправильный ответ — 0 баллов

Задание 11

Скажи, какой по весу чемодан у кузнечика.



легкий

тяжелый

Правильный ответ — 2 балла

Неправильный ответ — 0 баллов

Задание 12

Посмотри на картинку. Что здесь нарисовано **неправильно**?



Правильный ответ — 2 балла

Неправильный ответ — 0 баллов

Задание 13

Грузовик должен посетить домики **по порядку**. Нарисуй его маршрут и назови номера домиков.



Правильный ответ — 5 баллов

Неправильный ответ — 0 баллов

Задание 14

Какие звери пришли на рыбалку? У кого самая большая рыба, а у кого самая маленькая?



Каждый правильный ответ — 3 балла
Неправильный ответ — -1 балл

Задание 15

Скажи, кто где находится.



(эяродоя в)



(юяродоя рои)



(юяродоя fi)



(эяродоя vi)



(юяродоя ve)

Каждый правильный ответ — 2 балла
Неправильный ответ — -1 балл

Задание 16

Глядя на картинку, скажи, кто каким транспортом собирается отправиться в путешествие.



Каждый правильный ответ — 2 балла

Неправильный ответ — -1 балл

Задание 17

Сколько ежейков спряталось от Кати? Найди и сосчитай их.



Правильный ответ — 2 балла

Неправильный ответ — -1 балл

Задание 18

Кто из животных живет у человека дома?



Правильный ответ — 2 балла

Неправильный ответ — -1 балл

Итоги теста:

- Если Ваш ребенок набрал 80 и больше баллов, то у него **высокий** уровень развития для его возраста.



- Если Ваш ребенок набрал 60 и больше баллов, то у него **достаточный** уровень развития.

- Если Ваш ребенок набрал меньше 40 баллов, то Вам следует протестировать его на тестах **первого уровня сложности**, чтобы определить, в чем у него проблемы.




Тест третьего уровня сложности (для одаренного ребенка)

Задание 1

Сколько будет, если к 1 прибавить 1?

Сколько будет, если из 2 вычесть 1?

Можно упростить это задание, если изобразить его наглядно, например




Каждый правильный ответ — 3 балла

Неправильный ответ — 0 баллов

Задание 2

Вычеркни лишнее:



береза

яблоня

ель

сосна

ромашка

Правильный ответ — 5 баллов

Неправильный ответ — 0 баллов

Задание 3



Дополни: понедельник, вторник, среда, четверг...

Правильный ответ — 5 баллов

Неправильный ответ — 0 баллов

Задание 4

Назови, кто каким образом **передвигается**.



Каждый правильный ответ — 2 балла

Неправильный ответ — 0 баллов

Задание 5


Назови цифрой, сколько **мячей** нарисовано на картинке.



Правильный ответ — 5 баллов
Неправильный ответ — 0 баллов

Задание 6

Скажи, одинаковый ли цвет шубки у зайца **зимой** и **летом**.



Правильный ответ — 5 баллов
Неправильный ответ — 0 баллов


Задание 7

Образуй множественное число для слов:





кукла





свинья





помидор





брат

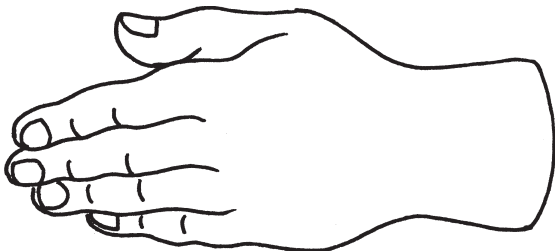


сестра

Каждый правильный ответ — 1 балл
Неправильный ответ — 0 баллов

Задание 8

Сколько пальцев у тебя на руке? А у мамы? А у папы?



Каждый правильный ответ — 5 баллов
Неправильный ответ — 0 баллов

Задание 9

Как называется столица нашей Родины?

(Можно немного упростить вопрос.) Как называется самый главный город нашей страны?

Правильный ответ — 3 балла
Неправильный ответ — -1 балл

Задание 10

Скажи, на что похоже яблоко.



на круг
на треугольник
на квадрат

Правильный ответ — 3 балла
Неправильный ответ — 0 баллов

Задание 11

Кто зимой спит в берлоге?



Правильный ответ — 5 баллов

Неправильный ответ — -1 балл

Задание 12

Как называется **вид спорта**, в котором люди передвигаются по льду на коньках и клюшкой стараются забить в ворота шайбу.




Правильный ответ — 5 баллов

Неправильный ответ — 0 баллов

Задание 13

Реши логическую задачу.


Пять кошек родили по одному котенку. Сколько всего родилось котят?



Правильный ответ — 5 баллов
Неправильный ответ — 0 баллов

Задание 14

Посчитай гусениц на дереве и назови их количество.



Правильный ответ — 2 балла

Неправильный ответ — 0 баллов

Задание 15

Каков сахар? Выбери два подходящих к нему слова.



Сахар

голубой
круглый
сладкий
жидкий
белый

Правильный ответ — 5 баллов

Неправильный ответ — 0 баллов

Задание 16

Скажи, что здесь нарисовано **неправильно**.



Правильный ответ — 3 балла

Неправильный ответ — 0 баллов

Задание 17

Ответь на вопросы:

Где сидят зверюшки? Сосчитай их.

Где находится один мышонок?

Где находится другой мышонок?



Каждый правильный ответ — 1 балл
Неправильный ответ — 0 баллов

Задание 18

Реши логическую задачу.

Мышонок на дорогу к бабушке из дома тратит 10 минут. Сколько минут он потратит, если пойдет вдвоем с другом?



Правильный ответ — 3 балла

Неправильный ответ — 0 баллов

Задание 19

Скажи, что нарисовано на картинке.





За ответ «деревья» — 1 балл

За ответ «лес» добавляется еще 3 балла

Неправильный ответ — 0 баллов

Задание 20


Назови по картинке предметы, которые начинаются с буквы «Н».



Каждый правильный ответ — 2 балла
Неправильный ответ — 0 баллов

Задание 21

Покажи на картинке те предметы, в названии которых есть буква «Б», и назови их.



Каждый правильный ответ — 2 балла
Неправильный ответ — 0 баллов

Задание 22

Назови предметы слева направо.

Назови предметы справа налево.



Каждый правильный ответ — 2 балла
Неправильный ответ — 0 баллов

Задание 23

Какой линией (**кривой** или **прямой**) шли к дому бабушки охотники, а какой Красная Шапочка?



Правильный ответ — 3 балла

Неправильный ответ — 0 баллов

Задание 24

Что мы имеем только по два?



Каждый правильный ответ — 2 балла
Неправильный ответ — 0 баллов

Итоги теста:

- Если Ваш ребенок набрал 120 баллов и больше, Вы вправе им гордиться, он несомненно **одарённый**.



- Если Ваш ребенок набрал 100 и больше баллов, то у него **высокий уровень развития**.

- Если ребенок набрал 80 баллов и больше, то у него **достаточный уровень развития**.



Комментарий

Вашему ребенку уже пять лет. В этом возрасте многие дети уже начинают готовиться к школе, поэтому родители должны особенно стараться развивать его умственные способности: ведь уже научно доказано, что чем больше информации проходит через мозг ребенка, тем малыш быстрее развивается и его мозг лучше функционирует. Поэтому малыши, растущие в богатой информационной среде, развиваются быстрее своих сверстников и обладают более высокими умственными способностями.

Все дети неодинаковы, одни лучше проявляют свои способности в одних видах деятельности, чем в других, они быстрее усваивают какие-то определенные навыки и умения. Другие — наоборот. Поэтому неразумно ожидать, что все дети одинаково хорошо должны справляться со всеми разделами программы дошкольного обучения. Однако система обучения имеет какие-то минимальные нормы для оценки подготовки детей к школе: определенный минимум умений в чтении, письме, математике и основных областях знаний. Некоторые второстепенные предметы, в которых ребенок испытывает затруднения, могут быть опущены без серьезной потери для его общего развития. Но в обязательных предметах рано или поздно нужно достичь требуемого уровня.

Методическое пособие
Г.П. Шалаева
Ребенок в возрасте 5 лет

Тесты на развитие

Редактор Е.В. Ситникова
Верстка С. Васильева
Корректор Е.В. Ситникова

Санитарно-эпидемиологическое заключение
№ 77.99.60.953.Д.001683.02.10 от 05.02.2010 г.

Общероссийский классификатор продукции
ОК-005-93, том 2; 953000 — книги, брошюры

Изготовленно при участии
ООО «Издательство АСТ» и ООО «М-ПРЕСС»
ООО «Издательство АСТ»
141100, РФ, Московская обл., г. Щелково, ул. Заречная, д. 96
www.ast.ru

Е-mail: astpub@aha.ru
ООО «М-ПРЕСС»
410028, г. Саратов, ул. Чернышевского, д. 153
ООО «Филологическое общество "СЛОВО"»
Лицензия: ЛП№061646 от 05.12.97
121357, Москва, Ватутина, д. 13, к. 1
Е-mail: slovo@df.ru
www.slovobook.ru

Подписано в печать 16.04.10
Формат 84x108 1/32. Усл. печ. л. 3,36
Тираж экз. Заказ № .



Г.П. Шалаева



Ребенок в возрасте 5 лет



Тесты на развитие



Эта прекрасно иллюстрированная книга с развивающими методами обучения логике познакомит детей с законами правильного мышления.



Упражнения, данные в книге, направлены на эффективную тренировку мышления, а логические игры с элементами развлечения способствуют формированию мыслительных операций, пробуждающих у ребенка интерес к математике и грамматике родного языка.



ISBN 978-5-17-058296-9



9 785170 582969

www.elkniga.ru

